


くるっとまわしてかがみで見よう!

なまえ

むずかしさ



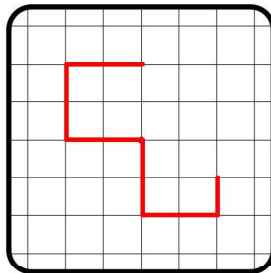
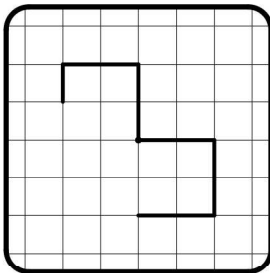
目標時間 5分



まずはシッカリかんがえてみよう。
わからない時は右の図をきりとり
つかってみてね。

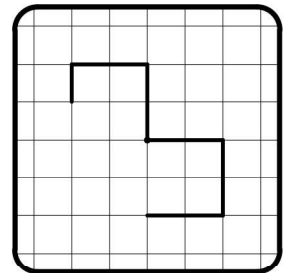
1

右に180度まわしたらどうなるかな?



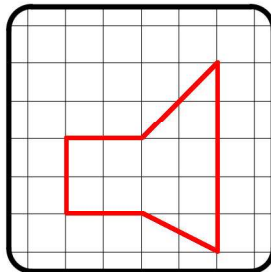
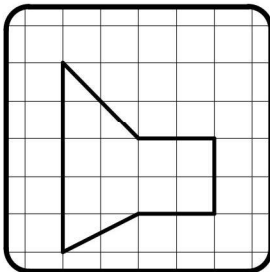
30点

☆わからない時は
きりとりつかってね☆

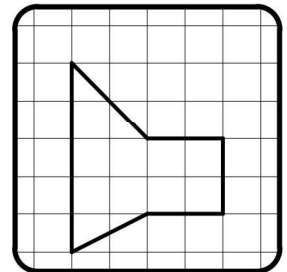


2

矢印にかがみおくとどううつるかな?

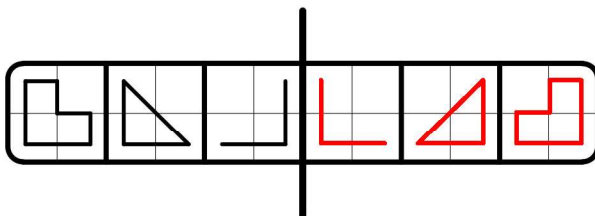


30点

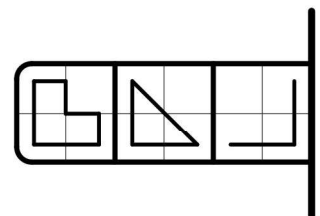


3

真ん中のせんにかがみをおくとどううつるかな?




40点



正解 問 合計 点



知育学習無料プリント



ちいぶりで検索

